

# ***Resolução de Questões de Provas Específicas de Geografia - Aula 1***



## Resolução de Questões de Provas Específicas de Geografia - Aula 1

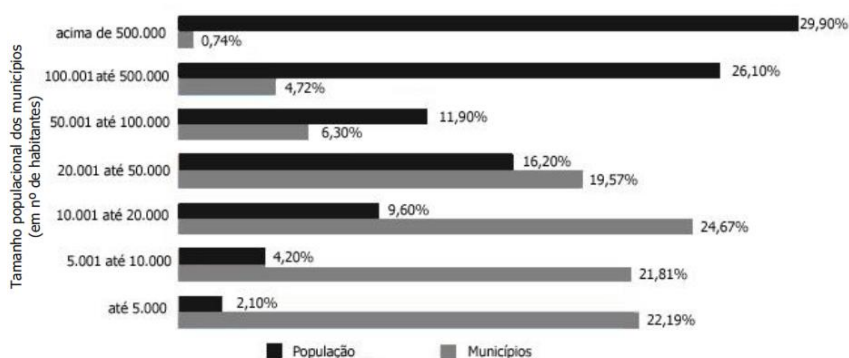
### 1. (UERJ) A dinâmica demográfica brasileira

Poucos temas são tão maltratados na imprensa como os processos demográficos. Todos os dias, aparece alguém falando ou escrevendo sobre assuntos como crescimento populacional ou planejamento familiar. A maioria dessas pessoas não mostra a menor familiaridade com os dados atuais ou o mínimo respeito pelos muitos estudos realizados por diversos pesquisadores. Dois exemplos de ideias falsas são: 1) a população brasileira está passando por uma explosão demográfica; 2) a pobreza é produto da fecundidade elevada.

*George Martine e José E.D. Alves. Adaptado de O Globo, 28/07/2006.*

A reportagem menciona duas ideias falsas a respeito da demografia brasileira. Explique o erro contido em cada uma delas.

### 2. (UFRGS) Observe o gráfico abaixo, sobre as estimativas das populações residentes nos municípios brasileiros, divulgado pelo IBGE, com data de referência de 1º de julho de 2015.



*Fonte: <<http://saladeimprensa.ibge.gov.br/noticias>>. Acesso em: 12 set. 2015.*

Considere as afirmações sobre a distribuição da população nos municípios brasileiros.

I - Mais da metade da população brasileira, 56%, vive em apenas 5,5% dos municípios, que são aqueles com até 100 mil habitantes, indicando que as pessoas concentram-se em grandes centros urbanos.

II - Apenas 6,3% da população residem em 44% dos municípios com até 10.000 habitantes.

III - Somente 10% da população brasileira concentram-se em municípios de 100.001 a 500.000 habitantes.

Quais estão corretas?

- a) Apenas I.
- b) Apenas II.
- c) Apenas III.
- d) Apenas I e II.
- e) I, II e III.

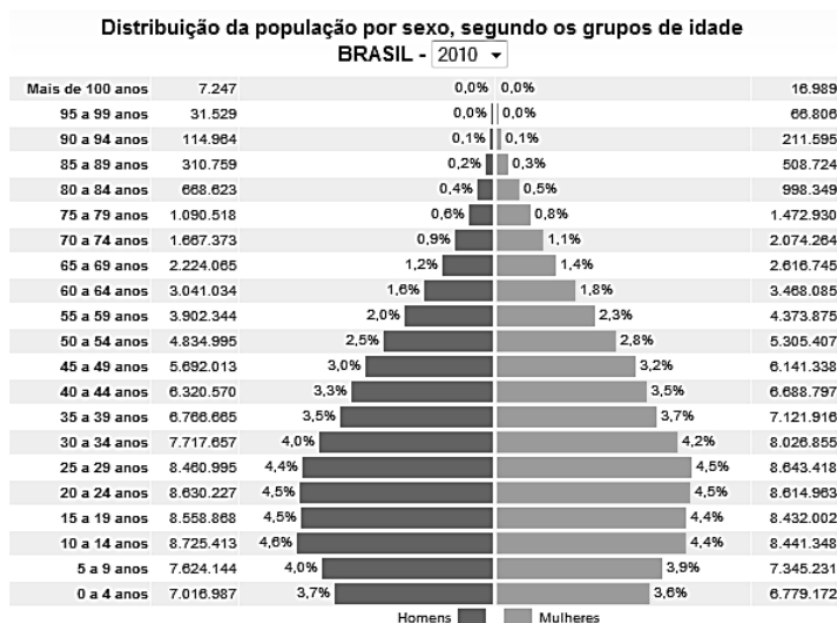
3. (UERJ) Observe, nas pirâmides etárias abaixo, a distribuição da população por sexo e por faixas de idades, apontando transformações na estrutura populacional do Brasil.



Adaptado de BOLIGIAN, L.; BOLIGIAN, A. T. A. *Geografia, espaço e vivência*. São Paulo: Atual, 2011.

Considerando o período de 1980 a 2020, explique a mudança principal em relação à proporção de jovens e a mudança principal em relação à proporção de idosos na população brasileira.

## 4. (UFSC)



Disponível em: <http://www.ibge.com.br/home/estatistica/populacao/>. Acesso em: 3 jul. 2013.

Assinale a(s) proposição(ões) CORRETA(S).

01. Os romances *Helena* (Machado de Assis) e *Clarissa* (Erico Verissimo) foram escritos, respectivamente, nos séculos XIX e XX. Se compararmos a evolução demográfica da população brasileira desses períodos, ocorreram poucas alterações, pois desde o Império o Brasil já era considerado um país “maduro”.

02. Desde o final do século XIX, a subnutrição e a fome crônica foram erradicadas no Brasil, contradizendo a teoria malthusiana, segundo a qual a população cresce em progressão aritmética e os recursos alimentares em progressão geométrica.

04. Considerando o gráfico acima, infere-se que o número de mulheres é superior ao de homens, sobretudo a partir da faixa etária dos 25 anos, apesar de nascerem mais homens do que mulheres.

08. A queda das taxas de fecundidade em um país é responsável por novos arranjos demográficos, entre eles a mudança na composição etária da população.

16. Segundo o gráfico acima, o número de mulheres é superior ao de homens na idade adulta, o que significa que elas se inserem com maior facilidade no mercado de trabalho, sem sofrerem nenhum tipo de discriminação.

O somatório das afirmativas é:

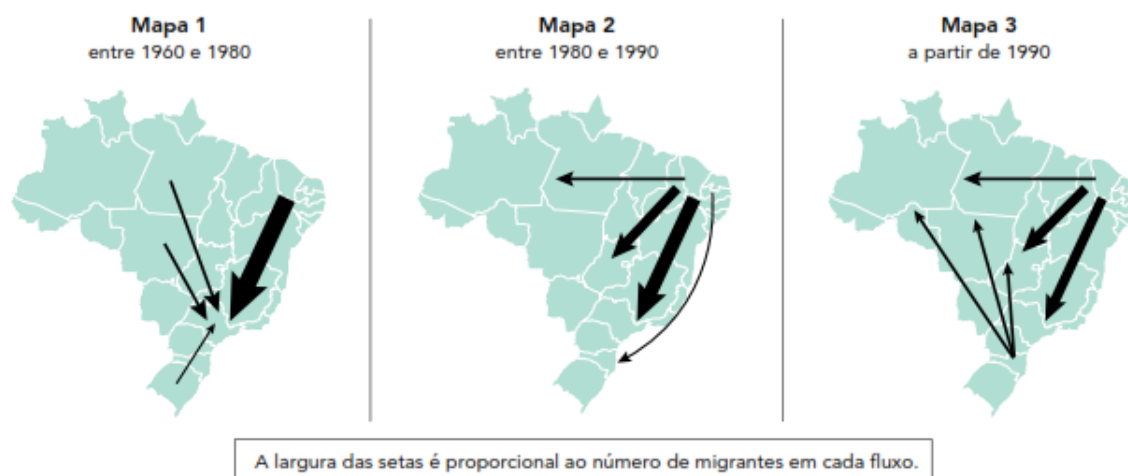
5. (UECE) O Censo demográfico de 2010 do IBGE informa que o Brasil ultrapassou 190 milhões de habitantes. Analise as seguintes afirmações sobre as características da população brasileira:

- I. A população brasileira está irregularmente distribuída em seu território.
- II. A região nordeste é a segunda mais populosa do País, no entanto, a sua densidade demográfica é baixa.
- III. O processo de industrialização da região sudeste não contribuiu para que esta seja a mais populosa do País.

Está correto o que se afirma em

- a) I e III apenas.
- b) II e III apenas.
- c) I, II e III.
- d) I e II apenas.

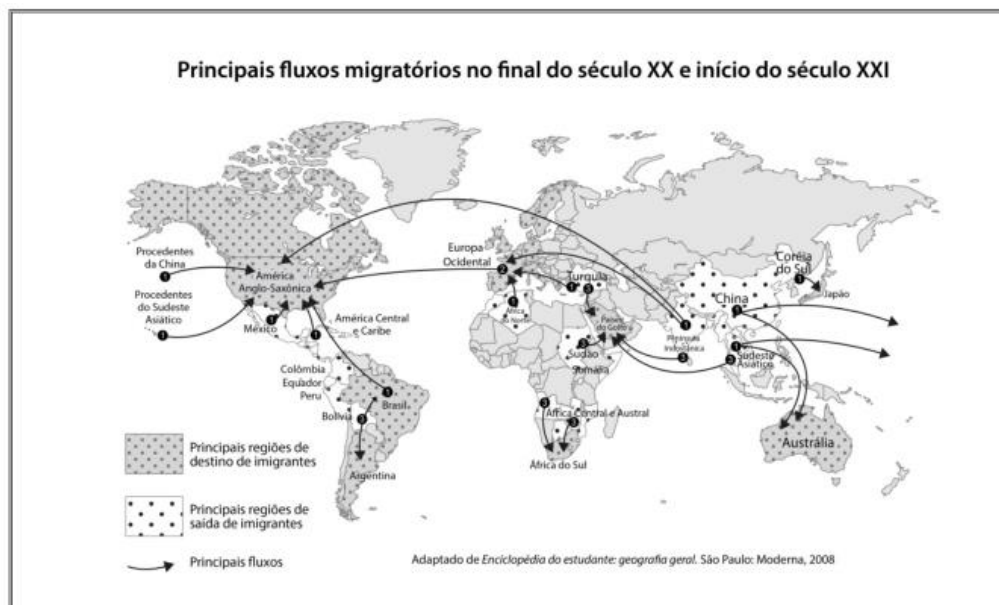
6. (UERJ) Fluxos Migratórios Brasileiros mais importantes na segunda metade do século XX e no início do século XXI entre 1960 e 1980



Adaptado de [sesi.webensino.com.br](http://sesi.webensino.com.br).

Identifique, no conjunto dos três mapas, a macrorregião do país com os maiores fluxos emigratórios e a macrorregião com os maiores fluxos imigratórios. Em seguida, indique um fator de atração e um de repulsão para o fluxo da região Sul para as regiões Norte e Centro-Oeste, observado no mapa 3.

7. (UFSC)



Sobre as questões demográficas na atualidade, é correto afirmar que:

01. as migrações da Europa e para a Europa são processos recentes, que se intensificaram a partir das décadas de 1980 e 1990, quando da dissolução da União das Repúblicas Socialistas Soviéticas e da unificação alemã com a queda do muro de Berlim.

02. os problemas migratórios atuais têm diferentes motivações e fluxos entre regiões da África, do Oriente Médio e da América Latina.

04. depois de atingir um alto grau de desenvolvimento econômico e humano, os países que compõem a União Europeia têm criado políticas de estímulo à entrada de imigrantes, principalmente de cidadãos de origem sul-americana, que representam mão de obra com elevada qualificação.

08. a União Europeia criou condições para o livre trânsito de capitais e mercadorias entre os Estados-membros, entretanto há ainda sérias restrições ao movimento de trabalhadores.

16. um problema a ser enfrentado por autoridades europeias é o fluxo migratório de alguns países do noroeste e do leste europeu, embora estes países apresentem desempenho econômico muito semelhante ao dos países do lado ocidental.

32. estudos mostram que o principal motivo que intensifica os processos de migração internacional são as alterações no clima global.

64. uma das principais causas da imigração para a Europa são os problemas advindos da desestruturação de vários países da África e do Oriente Médio.

O somatório das afirmativas é:

8. (UERJ) Os casos de mortes de imigrantes ilegais que tentam chegar à Europa por via marítima têm ocupado os noticiários. Na figura abaixo, os pontos indicam os locais onde ocorreram essas mortes, de janeiro de 2000 a julho de 2015.



*telegraph.co.uk*

Identifique os dois continentes de procedência da maior parte desses imigrantes. Em seguida, apresente duas justificativas socioeconômicas que têm levado essas pessoas a deixar os continentes de origem em direção à Europa.

9. (UFRGS) Observe o mapa abaixo.



Fonte: ACNUR <<http://www.unhcr.org/54aa91d89.html>>. Acesso em: 05 out. 2015.

Considere as afirmações abaixo, sobre a questão dos refugiados.

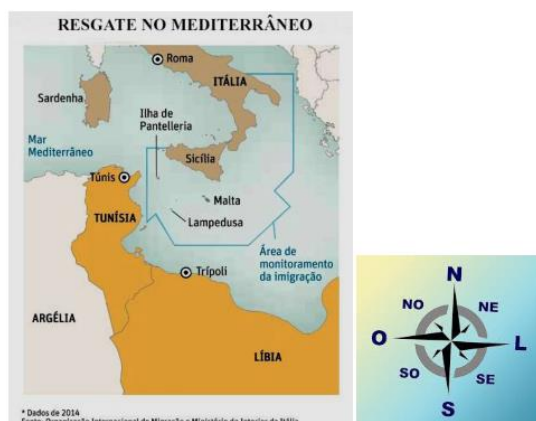
- I - Os refugiados procuram principalmente países considerados ricos e desenvolvidos.
- II - Estados Unidos, Alemanha e França são os países que mais recebem refugiados.
- III - O maior número de refugiados localiza-se em países da África e da Ásia.



Quais estão corretas?

- a) Apenas I.
- b) Apenas II.
- c) Apenas III.
- d) Apenas I e II.
- e) I, II e III.

10. (UEMG) A Proximidade entre a Líbia e a Itália Abre Espaço para Migrações Clandestinas “(...) A Líbia, país instável politicamente desde a queda de Muammar Gaddafi em 2011, é a origem de, pelo menos, 90% dos embarques de barcos e botes ilegais para a Itália; entre os dias 13 e 17 deste mês, 3800 pessoas foram resgatadas no mar fugindo em direção à Sicília; segundo a OIM (Organização Internacional Para As Migrações) –, dessas, cerca de 1200 pessoas foram levadas para a ilha de Lampedusa(...).”



*Folha de S. Paulo. 22 de Fevereiro de 2015 /caderno mundo a15. (texto e mapa adaptados.)*

De acordo com as informações obtidas no texto e no mapa apresentados, é correto afirmar que

- a) a área de monitoramento da imigração, que controla a entrada de clandestinos, está situada ao sul e em parte do leste do território italiano, no Mar Mediterrâneo.
- b) os líbios são africanos de origem árabe-islâmica, que se deslocam do norte da África em direção ao nordeste da Itália.
- c) a Itália tem ilhas meridionais que estão recebendo os imigrantes, com destaque para a Ilha da Sardenha, a que mais recebe imigrantes oriundos do norte da África.
- d) a área de monitoramento da imigração delimita os países setentrionais da África e a região meridional da Itália no Mar Mediterrâneo.



## Gabarito

1. Uma das respostas para a ideia 1: a taxa de fecundidade atual é muito menor do que a do passado; o número absoluto de nascimentos é alto, mas, em termos relativos, é baixo; a taxa de crescimento demográfico apresentou uma queda vertiginosa nas últimas décadas; o número absoluto de nascimentos é alto, mas não porque as mulheres tenham muitos filhos, e sim porque existem muitas mulheres em idade reprodutiva. Uma das respostas para a ideia 2: o número elevado de filhos entre as mulheres mais pobres é fruto da falta de informação; as mulheres com maior nível de escolaridade, sejam pobres ou ricas, apresentam taxas de fecundidade semelhantes; o número elevado de filhos entre as mulheres mais pobres deve-se à falta de acesso aos métodos modernos de regulação da fecundidade.
2. B
3. Explicação quanto aos jovens: A proporção de jovens no conjunto da população brasileira diminui no período considerado, em função da diminuição das taxas de natalidade e de fecundidade no país. Explicação quanto aos idosos: O percentual de idosos aumenta no mesmo período no país, devido à elevação da expectativa de vida entre os brasileiros.
4. 12 (04 + 08)
5. D
6. Fluxo de emigração: Nordeste. Fluxo de imigração: Sudeste. Fator de atração: Expansão das áreas de fronteira agrícola na Amazônia e no Centro-Oeste. Um dos fatores de repulsão: elevado custo da terra; fracionamento da propriedade rural; dificuldade de concorrência do pequeno proprietário com a grande propriedade mecanizada.
7. 66 (02 + 64)
8. Continentes: África e Ásia. Justificativas socioeconômicas: Desemprego, conflitos armados, baixo nível de renda e intolerância religiosa/étnica.
9. C
10. A