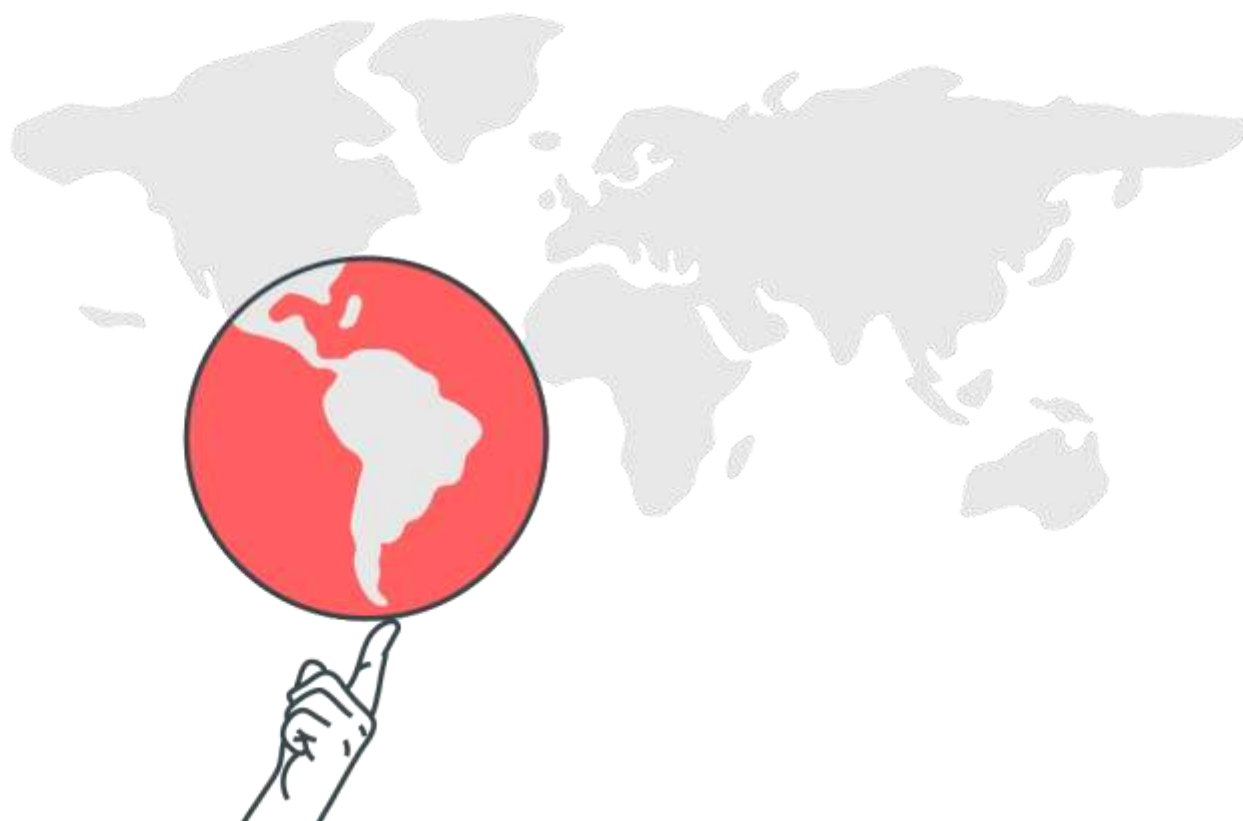


Espaço Mundial (Economia, População, Geopolítica e Conflitos Atuais)



Espaço Mundial (Economia, População, Geopolítica e Conflitos Atuais)

1. (UNICAMP) “Graças ao tamanho continental e à imensa população do país, as políticas implementadas pelo governo permitiram à China combinar as vantagens da industrialização voltada para a exportação, induzida em grande parte pelo investimento estrangeiro, com as vantagens de uma economia nacional centrada em si mesma e protegida informalmente pelo idioma, pelos costumes, pelas instituições e pelas redes, aos quais os estrangeiros só tinham acesso por intermediários locais. Uma boa ilustração dessa combinação são as imensas ZPEs que o governo da China ergueu do nada e que hoje abrigam dois terços do total mundial de **trabalhadores em zonas desse tipo.**”

(Adaptado de Giovanni Arrighi, *Adam Smith em Pequim: origens e fundamentos do século XXI*. São Paulo: Boitempo, 2008, p.362.)

- a) Indique duas ações políticas do governo chinês que produziram as condições internas para a ascensão econômica do país.
- b) Aponte as estratégias geopolíticas utilizadas pela China para a obtenção de recursos naturais em distintas partes do mundo, que possibilitam a manutenção do atual modelo de produção industrial em larga escala no país.

2. (FUVEST)



Fonte: Jaltá: Joly; Reineri, 2004. Adaptado.

“O poder do cidadão, o poder de cada um de nós, limita-se, na esfera política, a tirar um governo de que não gosta e a pôr outro de que talvez venha a se gostar. Nada mais. Mas as

grandes decisões são tomadas em uma grande esfera e todos sabemos qual é. As grandes organizações financeiras internacionais, os FMI, a Organização Mundial do Comércio, os bancos mundiais, tudo isso. Nenhum desses organismos é democrático. E, portanto, como é que podemos falar em democracia, se aqueles que efetivamente governam o mundo não são **eleitos democraticamente pelo povo?**"

Discurso de José Saramago, disponível em www.revistaforum.com.br. Acessado em 11/09/2009.

Na charge acima, o cidadão sentado representa o presidente de um país emergente.

Considerando a referida charge, o texto e seus conhecimentos,

a) caracterize a Nova Ordem Econômica Mundial.

b) analise a relação entre regime político democrático e neoliberalismo, no mundo atual.

3. (UNESP) Analise a charge e o texto a seguir.



“As teses dos neoconservadores voltaram a aparecer em plena luz do dia com o regresso dos republicanos à Casa Branca, em 2000, depois de uma controvertida vitória eleitoral de George W. Bush (o filho). Sob a influência de neoconservadores como o vice-presidente Dick Cheney, o novo presidente se recusou a assinar o Protocolo de Kyoto de defesa do meio ambiente e **rompeu vários tratados internacionais.**”

(Igor Fuser. Geopolítica – o mundo em conflito, 2006. Adaptado.)

Sobre o período que se segue aos acontecimentos da charge e do texto, faz-se as seguintes afirmações.

I. Ao contrário dos defensores da redução dos gastos militares após o fim da Guerra Fria, a linha-dura americana propunha a ampliação do aparato militar e do recurso à guerra como principais instrumentos de política externa do governo Bush.

II. O inimigo imediato já estava escolhido: a Arábia Saudita, um país riquíssimo em petróleo. Os EUA acreditavam ter ainda contas a ajustar com o ditador Saddam Hussein, cujo regime havia sobrevivido à derrota na Guerra do Golfo de 1991.

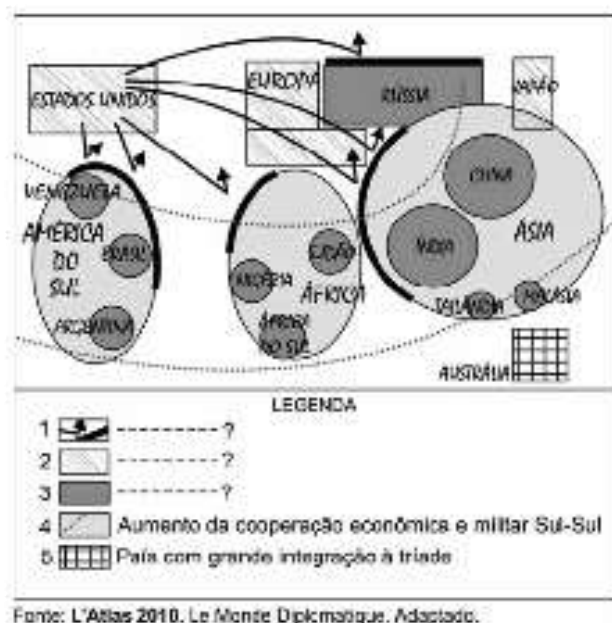
III. A decisão de invadir a Turquia foi tomada quando ocorreram os atentados de 11 de setembro de 2001. Os cidadãos norte-americanos nunca tinham testemunhado um ataque tão devastador em seu próprio território.

IV. A resposta do governo Bush, aos atentados de 11 de setembro de 2001, veio rápida, com um ataque militar fulminante ao Afeganistão. Aproveitando-se da solidariedade internacional **aos EUA após os atentados, declara “Guerra ao Terror” e ao “Eixo do Mal”, constituído por Iraque, Coreia do Norte e Irã.**

É correto apenas o que se afirma em

- a) I e IV.
- b) II e III.
- c) II, III e IV.
- d) I, III e IV.
- e) I, II e III.

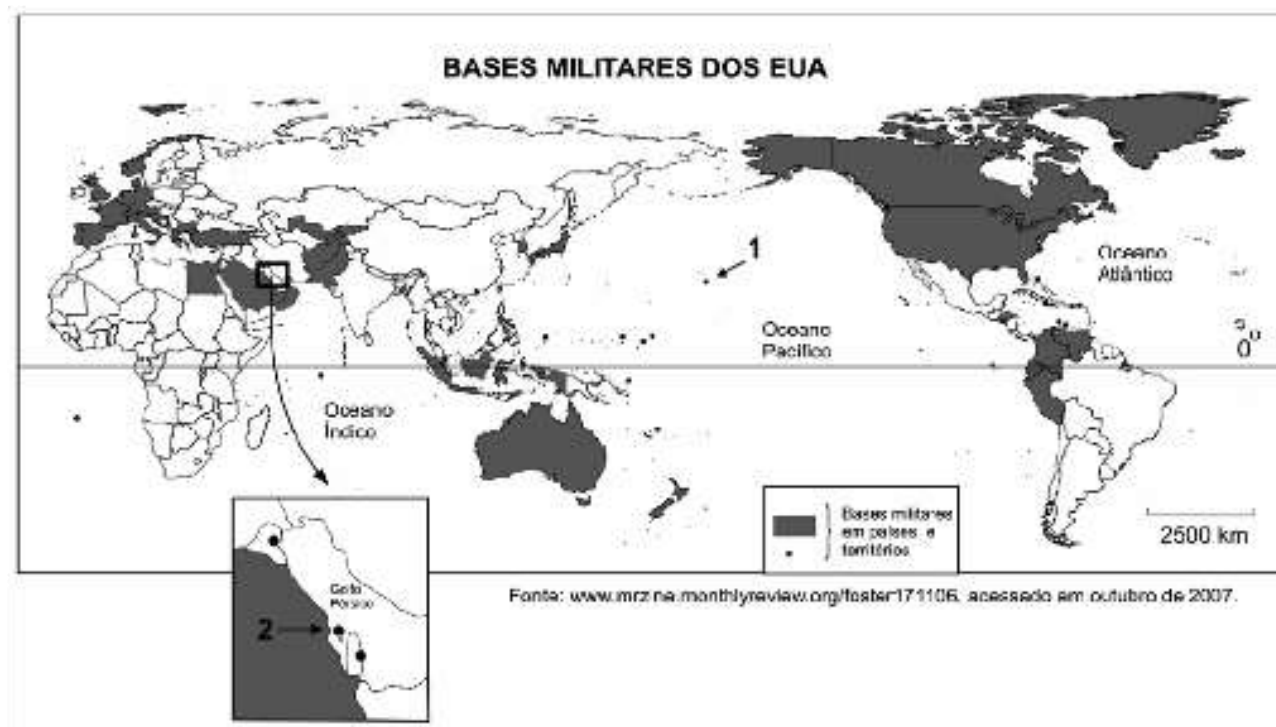
4. (FUVEST) A figura abaixo é uma representação esquemática da geopolítica atual (1991/2009), segundo o autor Philip S. Golub.



Considerando seus conhecimentos sobre a atual geopolítica mundial, identifique a alternativa que contém um título adequado para a figura bem como informações que completam, corretamente, os itens 1, 2 e 3 da legenda.

	Título	Legenda
a)	Hegemonia contestada da tríade: emergência de um Mundo Policêntrico.	1. Resistência à influência europeia. 2. Países membros da OTAN. 3. Potências militares regionais sob a liderança de Brasil e Índia.
b)	Mundo Unipolar: planeta sob o controle econômico dos EUA.	1. Resistência ao uso de armas nucleares. 2. Países signatários de tratados de livre-comércio. 3. Países do hemisfério sul sob tutela dos EUA.
c)	Membros permanentes do Conselho de Segurança da ONU e Mundo Tripolar.	1. Resistência à influência europeia. 2. Países membros da OTAN. 3. Potências militares regionais sob a liderança de Brasil e Índia.
d)	Hegemonia contestada da tríade: emergência de um Mundo Policêntrico.	1. Resistência à hegemonia norte-americana. 2. Países da tríade. 3. Ascensão de poderes regionais e diminuição do poder norte-americano.
e)	Membros permanentes do Conselho de Segurança da ONU e Mundo Tripolar.	1. Resistência ao uso de armas nucleares. 2. Países signatários de tratados de livre-comércio. 3. Países do hemisfério sul sob tutela dos EUA.

5. (FUVEST)



Segundo estimativas, após 11 de setembro de 2001, quando ocorreram os atentados às Torres Gêmeas e ao Pentágono, os EUA aumentaram em cerca de 20% sua presença militar ao redor do mundo. Estima-se também que por volta de 300 mil soldados estejam em bases militares americanas em mais de 140 países.

Considerando o mapa acima,

- identifique os locais indicados pelos números 1 e 2.
- cite e explique ao menos um motivo para a manutenção, pelos EUA, de bases militares em cada um dos locais citados no item a.

Gabarito

1. a) O governo chinês empreendeu notáveis reformas desde a revolução de 1949. Pode-se destacar, no período do governo de Deng Xiaoping, a política de controle de natalidade e **a criação de Z.E.E's., responsáveis por uma abertura controlada ao capital estrangeiro.** Na última década, destacam-se as políticas de redistribuição de renda.
b) A china vem atuando de forma agressiva no processo de exportação de capitais a partir de suas grandes estatais instaladas em países pobres; nesses países, as empresas chinesas exercem a cada dia maior influência política, como no caso da República Democrática do Congo que teve sua dívida externa paga pelos chineses em troca de petróleo.
2. a) A Nova Ordem Econômica mundial apresenta características relacionadas à 3ª - Revolução Industrial, na qual o investimento em PeD (Pesquisa e Desenvolvimento) contribuiu para aumentar o distanciamento entre países ricos e pobres, em função da grande necessidade de capital. O avanço tecnológico dos meios de comunicação e informação permitiu o **aumento dos fluxos de capital especulativo, o chamado "smart money" (dinheiro esperto), aumentando a dependência dos países, principalmente os emergentes, desse tipo de fluxo.** Outra característica da Nova Ordem Econômica seria o fortalecimento de oligopólios para competir de maneira mais eficiente no mundo globalizado. Nesse contexto, as organizações financeiras internacionais se fortalecem, reforçando a expansão de práticas neoliberais.
b) A democracia política é considerada por muitos como o regime político ideal, por permitir a cada cidadão o direito de escolher seus representantes na esfera política e, em geral, em escala nacional. Porém, à medida que se expande pelo mundo a adoção de práticas neoliberais, que pregam a mínima intervenção do Estado na economia, transferindo para o mercado (em geral controlado por grandes corporações transnacionais) os destinos econômicos, fica evidente que os cidadãos se distanciam cada vez mais das decisões nesse setor. Além disso, o avanço do processo de globalização tem ampliado o poder de organizações internacionais (como FMI e OMC) cujos líderes não são escolhidos por participação direta dos cidadãos.
3. A
4. D
5. a) As bases destacadas localizam-se (I) no Havaí, estado da federação norte-americana situado no Pacífico, centro setentrional; (II) no Bahrein, arquipélago situado no Golfo Pérsico.
b) No Havaí, o interesse estratégico dos EUA despertou na segunda metade do século XIX, quando o país projetou-se para o oeste, em direção ao Oceano Pacífico e à costa

oriental da Ásia. Esse interesse estratégico ampliou-se com a oposição do Japão imperial, na primeira metade do século XX, e foi intensificado com a Guerra Fria, entre 1945 e 1991, com a Guerra da Coréia e a do Vietnã. O interesse estratégico-militar atual deve-se ao atrito com o regime norte-coreano e ao potencial confronto com a China. No Bahrein, como no Golfo Pérsico de um modo geral, o interesse estratégico-militar dos EUA está diretamente ligado ao petróleo. A região do Golfo Pérsico, que detém as maiores reservas mundiais do produto, é fonte de tensão desde o fim da década de 1970, quando houve a Revolução Islâmica no Irã, em 1979, e posteriormente os conflitos envolvendo Irã, Iraque e Kuwait.