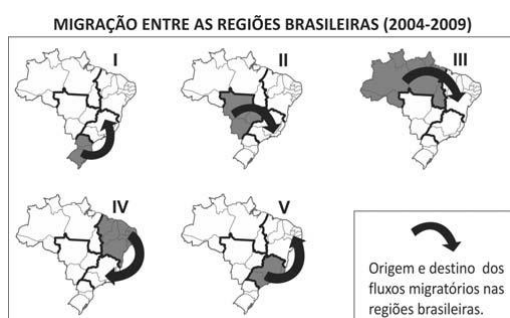


Dinâmica Populacional



Dinâmica Populacional

1. (FUVEST) Observe os mapas.



IBGE/OESP, 16/07/2011

Dentre as seguintes alternativas, a única que apresenta a principal causa para o correspondente fluxo migratório é:

- a) I: procura por postos de trabalho formais no setor primário.
- b) II: necessidade de mão de obra rural, devido ao avanço do cultivo do arroz.
- c) III: necessidade de mão de obra no cultivo da soja no Ceará e em Pernambuco.
- d) IV: procura por postos de trabalho no setor aeroespacial.
- e) V: migração de retorno.

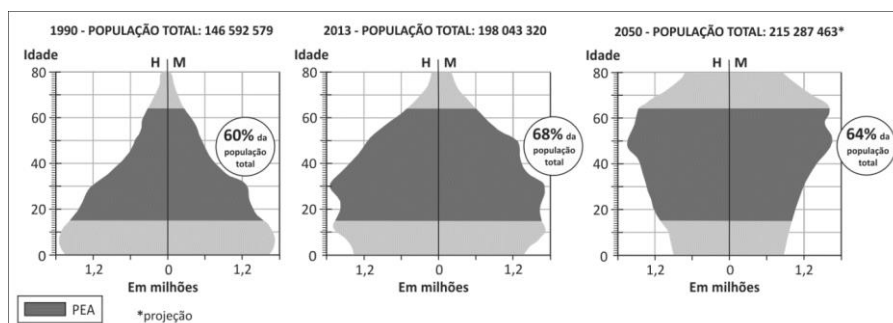
2. (UNESP) O número total de refugiados por causa da guerra civil na Síria chegou a 2 milhões, informa nesta terça-feira [03.09.2013] o Alto Comissariado das Nações Unidas para Refugiados, Acnur. De acordo com um informe da agência, não há previsão de melhora na situação, que já duram dois anos e meio. Ainda de acordo com o Acnur, o número de refugiados representa um salto de quase 1,8 milhão em 12 meses. Há exato um ano, o número de sírios registrados como refugiados ou aguardando registro era de 230 mil.

(<http://g1.globo.com>. Adaptado.)

Considerando as diversas causas que determinam a natureza dos fluxos demográficos, o termo que melhor qualifica o tipo de migração retratado no texto é migração

- a) sazonal.
- b) espontânea.
- c) forçada.
- d) pendular.
- e) retorno.

3. (FUVEST) Os gráficos abaixo representam a composição da população brasileira, por sexo e idade, nos anos de 1990 e 2013, bem como sua projeção para 2050. Observe que, para cada ano, está destacado o percentual da população economicamente ativa (PEA).



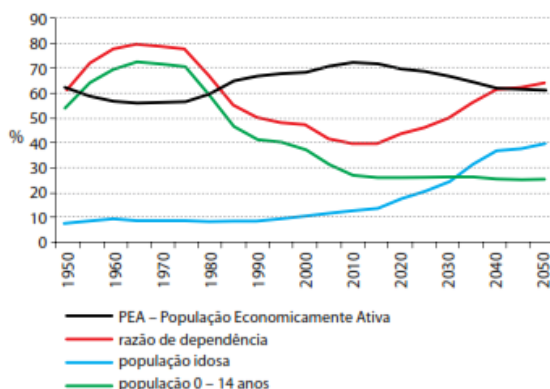
www.ibge.gov.br. Acessado em 20/08/2013. Adaptado.

Com base nas informações acima e em seus conhecimentos, atenda ao que se pede.

- a) Na atualidade, o Brasil encontra-se no período denominado “janela demográfica”. Caracterize esse período.
- b) Analise a pirâmide etária de 2050 e cite duas medidas que poderão ser tomadas pelo governo brasileiro para garantir o bem-estar da população nesse contexto demográfico. Explique.

4. (UNESP) No fim dos anos 70 e no começo dos anos 80, o governo da China passou a defender um estilo de vida conhecido como “mais tarde, mais longo e menos” - em referência a casamentos mais tardios, períodos mais longos entre cada gravidez e menos crianças.

População na China, 1950 – 2050



(José Eustáquio Diniz Alves. *Estrutura etária e bônus demográfico nos BRICs*, 2008. Adaptado.)

Considerando seus conhecimentos e as informações fornecidas, explique a política demográfica na China e indique uma consequência direta que o país enfrentará no futuro.

5. (UNICAMP) Observe os dados na tabela abaixo.

Distribuição demográfica por tamanho de municípios – Estado de São Paulo (1970 e 2000)

| Classe de tamanho dos municípios (mil habitantes) | Ano de 1970 | | | | Ano de 2000 | | | |
|---|------------------|------|------------|------|------------------|------|------------|------|
| | Nº de municípios | | População | | Nº de municípios | | População | |
| | Total | % | Total | % | Total | % | Total | % |
| Até 20 | 429 | 75,1 | 3.452.155 | 19,4 | 411 | 63,7 | 3.023.821 | 8,2 |
| Entre 20 e 50 | 96 | 16,8 | 2.884.036 | 16,2 | 118 | 18,3 | 3.659.903 | 9,9 |
| Entre 50 e 100 | 24 | 4,2 | 1.603.459 | 9,0 | 54 | 8,4 | 3.826.839 | 10,3 |
| Entre 100 e 250 | 17 | 3,0 | 2.483.320 | 14,0 | 40 | 6,2 | 6.233.211 | 16,8 |
| Entre 250 e 500 | 4 | 0,7 | 1.423.393 | 8,0 | 14 | 2,2 | 4.762.928 | 12,9 |
| Entre 500 e 2 mil | 0 | 0,0 | 0 | 0,0 | 7 | 1,1 | 5.091.450 | 13,7 |
| Mais de 2 mil | 1 | 0,2 | 5.924.612 | 33,3 | 1 | 0,2 | 10.434.252 | 28,2 |
| Total do estado | 571 | 100 | 17.770.975 | 100 | 645 | 100 | 37.032.403 | 100 |

(Adaptado de C. A. Brandão e F. C. de Macedo, *Demografia e urbanização*. Em: W. Cano; C. A. Brandão; C. S. Maciel e F. C. Macedo, *Economia Paulista: Dinâmica socioeconômica entre 1980 e 2005*. Campinas: Alínea, 2007, p.23.)

- a) Na tabela consta um município com mais de 2 milhões de habitantes (São Paulo). Analise sucintamente a sua evolução demográfica, comparando o ano de 1970 com 2000.
- b) Na tabela, levando em conta as classes de tamanho, observa-se significativo crescimento do número de municípios entre 100 mil e 500 mil habitantes (duas classes de tamanho) entre 1970 e 2000. Quais os principais fatores causadores do crescimento expressivo do número dessas cidades?

6. (UNESP) Nos três primeiros meses de 2013, entraram no território brasileiro cerca de três mil pessoas vindas do Haiti. O aumento substancial no fluxo de entrada de haitianos no país se deu principalmente pelo pequeno município de Brasileia, no Estado do Acre. A cidade, com cerca de 20 mil habitantes, faz fronteira com a Bolívia e o Peru, e, de janeiro ao final de março, viu chegar um número estimado de 2 mil imigrantes haitianos.

(<http://brazilianpost.co.uk>. Adaptado.)

Aponte dois motivos que expliquem o aumento recente da migração de haitianos para o Brasil. Explique a diferença entre esse fluxo migratório de haitianos para o Brasil e a maioria dos fluxos migratórios instalados no mundo na segunda metade do século XX.

Gabarito

1. E
2. C
3. a) “Janela demográfica”, ou também denominada de “bônus demográfico”, corresponde ao período em que a População Economicamente Ativa (PEA) supera a População Economicamente Inativa (PIA), que compreende as crianças e os idosos. Tal fato é considerado positivo, pois em teoria é o momento ideal que o país possui para gerar uma maior arrecadação com impostos do que com gastos em saúde e previdência.
b) A pirâmide etária no período de 2050 traduz o envelhecimento da população. Observa-se o aumento da população adulta e idosa (meio e o topo da pirâmide) e a redução da população infantil e jovem (base da pirâmide). Entre as medidas para garantir o bem-estar pode-se citar: Investimento na saúde pública e no sistema previdenciário; investimento na geração de empregos e na educação, pois haverá uma grande população economicamente ativa disponível.
4. A política demográfica implantada pela China conhecida como “mais tarde, mais longo e menos” a partir da década de 1970 tinha como objetivo restringir o número de nascimentos, inclusive com a premissa de “um filho por casal”. O impacto desta política foi a desaceleração do crescimento populacional do país (0,6% ao ano), redução do percentual de jovens e elevação no percentual de idosos, devido respectiva melhora na qualidade de vida. O aumento percentual da população idosa implica em um maior gasto do governo com saúde pública e previdência social. Todavia, decorrente dessa política, no futuro, haverá uma diminuição da PEA (População Economicamente Ativa), o que poderá se tornar um problema para a economia do país, pois é a PEA a responsável pela produção de riqueza e geração de impostos.
5. a) Tem havido perda de população relativa, mas em números absolutos a população vem crescendo, registrando-se um ritmo menor de crescimento no município de São Paulo.
b) Entre os principais fatores, assinalam-se: a interiorização do desenvolvimento no Estado a partir dos anos 1970; movimentos migratórios no Estado; procura por centros urbanos considerados de boa qualidade de vida e menos violentos; fortalecimento das funções terciárias das cidades médias; enriquecimento de áreas de agronegócio, que atraem novos imigrantes; melhoria da acessibilidade, com ampliação e modernização de eixos viários.
6. Entre os motivos que explicam o maior fluxo migratório de haitianos para o Brasil são: a liderança pelo Brasil das forças da ONU presentes no Haiti; a importância econômica

brasileira no continente representando um polo de oportunidades não somente para haitianos como, também, bolivianos e peruanos. A maioria dos fluxos migratórios mundiais, na segunda metade do século XX, são de caráter político, étnico-religioso e perseguição política, enquanto fluxos de haitianos possuem razões socioeconômicas.