

Resolução de Questões do ENEM

1. É possível usar água ou comida para atrair as aves e observá-las. Muitas pessoas costumam usar água com açúcar, por exemplo, para atrair beija-flores. Mas é importante saber que, na hora de fazer a mistura, você deve sempre usar uma parte de açúcar para cinco partes de água. Além disso, em dias quentes, precisa trocar a água de duas a três vezes, pois com o calor ela pode fermentar e, se for ingerida pela ave, pode deixá-la doente. O excesso de açúcar, ao cristalizar, também pode manter o bico da ave fechado, impedindo-a de se alimentar. Isso pode até matá-la.

Ciência Hoje das Crianças. FNDE; Instituto Ciência Hoje, n. 166, mar 1996.

Pretende-se encher completamente um copo com a mistura para atrair beija-flores. O copo tem formato cilíndrico, e suas medidas são 10 cm de altura e 4 cm de diâmetro. A quantidade de água que deve ser utilizada na mistura é cerca de (utilize $\pi = 3$)

- a) 20 mL.
- b) 24 mL.
- c) 100 mL.
- d) 120 mL.
- e) 600 mL.

2. O globo da morte é uma atração muito usada em circos. Ele consiste em uma espécie de jaula em forma de uma superfície esférica feita de aço, onde motoqueiros andam com suas motos por dentro. A seguir, tem-se, na Figura 1, uma foto de um globo da morte e, na Figura 2, uma esfera que ilustra um globo da morte.




Figura 1

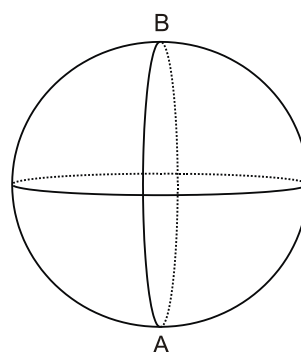


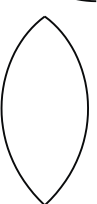



Figura 2

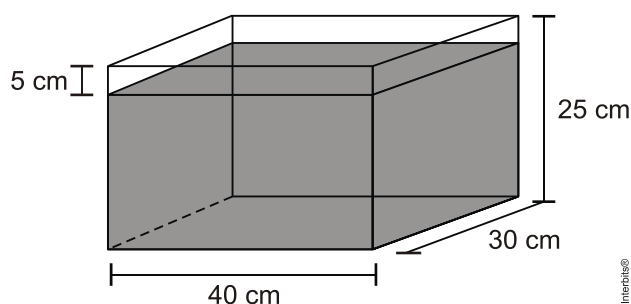
Na Figura 2, o ponto A está no plano do chão onde está colocado o globo da morte e o segmento AB passa pelo centro da esfera e é perpendicular ao plano do chão. Suponha que há um foco de luz direcionado para o chão colocado no ponto B e que um motoqueiro faça um trajeto dentro da esfera, percorrendo uma circunferência que passa pelos pontos A e B.

Disponível em: www.baixaki.com.br. Acesso em: 29 fev. 2012.

A imagem do trajeto feito pelo motoqueiro no plano do chão é melhor representada por

- a) 
- b) 
- c) 
- d) 
- e)

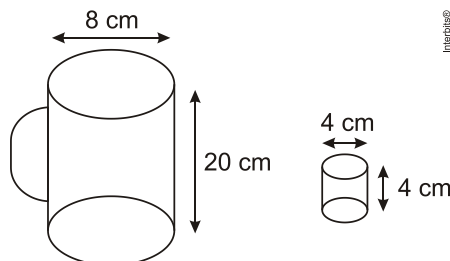
3. Alguns objetos, durante a sua fabricação, necessitam passar por um processo de resfriamento. Para que isso ocorra, uma fábrica utiliza um tanque de resfriamento, como mostrado na figura.



O que aconteceria com o nível da água se colocássemos no tanque um objeto cujo volume fosse de $2\,400\text{ cm}^3$?

- a) O nível subiria 0,2 cm, fazendo a água ficar com 20,2 cm de altura.
- b) O nível subiria 1 cm, fazendo a água ficar com 21 cm de altura.
- c) O nível subiria 2 cm, fazendo a água ficar com 22 cm de altura.
- d) O nível subiria 8 cm, fazendo a água transbordar.
- e) O nível subiria 20 cm, fazendo a água transbordar.

4. Dona Maria, diarista na casa da família Teixeira, precisa fazer café para servir as vinte pessoas que se encontram numa reunião na sala. Para fazer o café, Dona Maria dispõe de uma leiteira cilíndrica e copinhos plásticos, também cilíndricos.



Com o objetivo de não desperdiçar café, a diarista deseja colocar a quantidade mínima de água na leiteira para encher os vinte copinhos pela metade. Para que isso ocorra, Dona Maria deverá

- a) encher a leiteira até a metade, pois ela tem um volume 20 vezes maior que o volume do copo.
- b) encher a leiteira toda de água, pois ela tem um volume 20 vezes maior que o volume do copo.
- c) encher a leiteira toda de água, pois ela tem um volume 10 vezes maior que o volume do copo.
- d) encher duas leiteiras de água, pois ela tem um volume 10 vezes maior que o volume do copo.
- e) encher cinco leiteiras de água, pois ela tem um volume 10 vezes maior que o volume do copo.

5. Para construir uma manilha de esgoto, um cilindro com 2 m de diâmetro e 4 m de altura (de espessura desprezível), foi envolvido homogeneamente por uma camada de concreto, contendo 20 cm de espessura.

Supondo que cada metro cúbico de concreto custe R\$ 10,00 e tomando 3,1 como valor aproximado de π , então o preço dessa manilha é igual a

- a) R\$ 230,40.
- b) R\$ 124,00.
- c) R\$ 104,16.
- d) R\$ 54,56.
- e) R\$ 49,60.

Gabarito

1. C
2. E
3. C
4. A
5. D