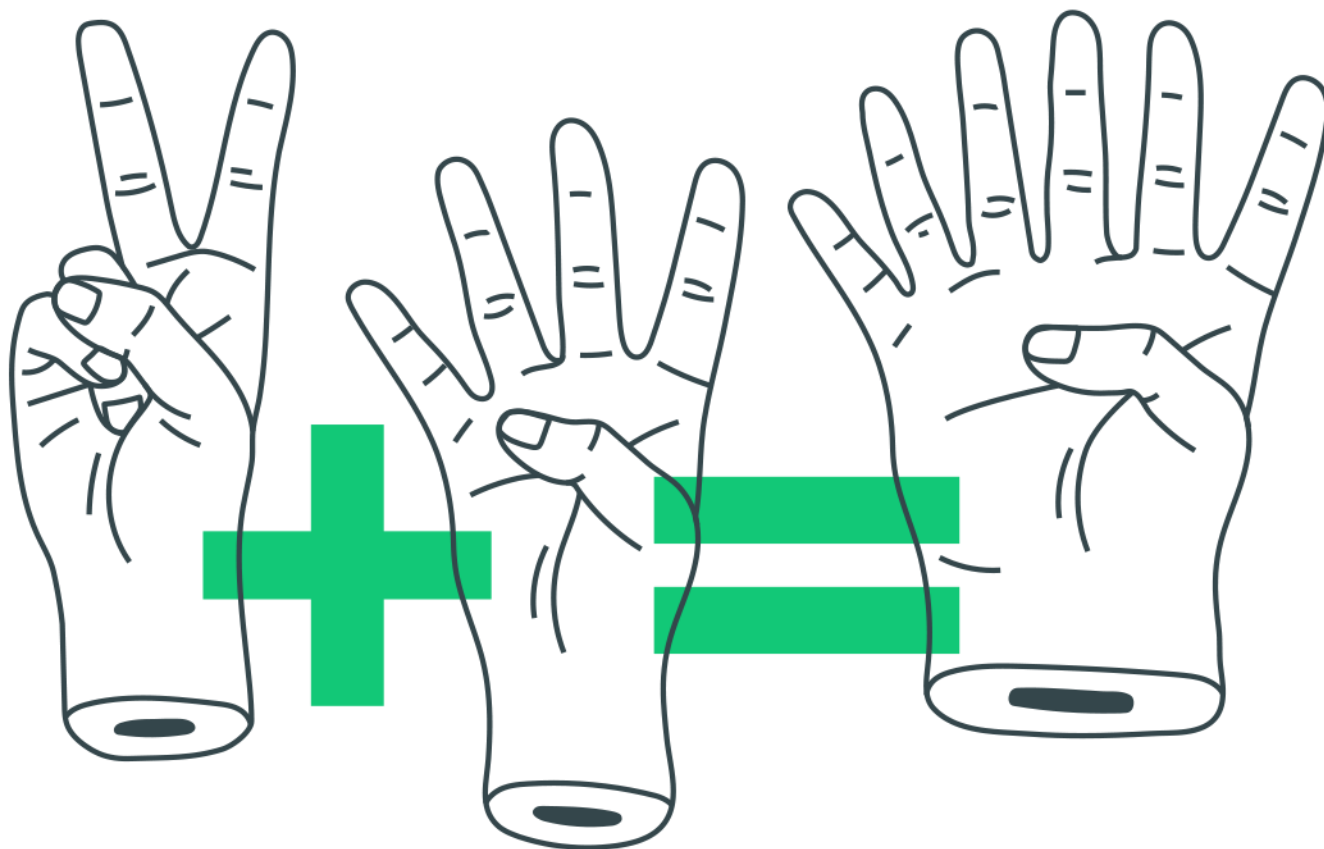


## *Noções de Estatística: Tratamento da Informação, Gráficos e Tabelas*



## Noções de Estatística: Tratamento da Informação, Gráficos e Tabelas

1. (Enem) Uma empresa de alimentos oferece três valores diferentes de remuneração a seus funcionários, de acordo com o grau de instrução necessário para cada cargo. No ano de 2013, a empresa teve uma receita de 10 milhões de reais por mês e um gasto mensal com a folha salarial de R\$400.000,00, distribuídos de acordo com o Gráfico 1. No ano seguinte, a empresa ampliará o número de funcionários, mantendo o mesmo valor salarial para cada categoria. Os demais custos da empresa permanecerão constantes de 2013 para 2014. O número de funcionários em 2013 e 2014, por grau de instrução, está no Gráfico 2.

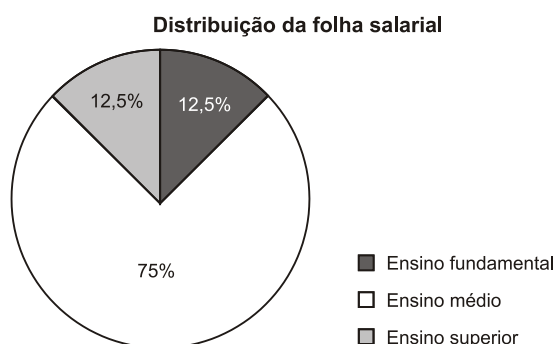


Gráfico 1

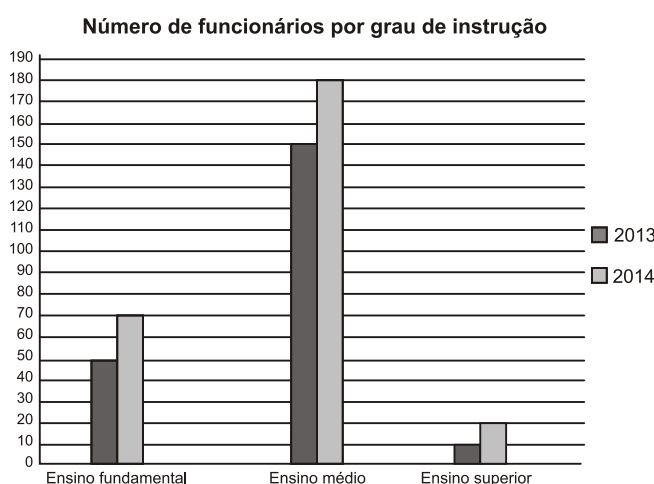


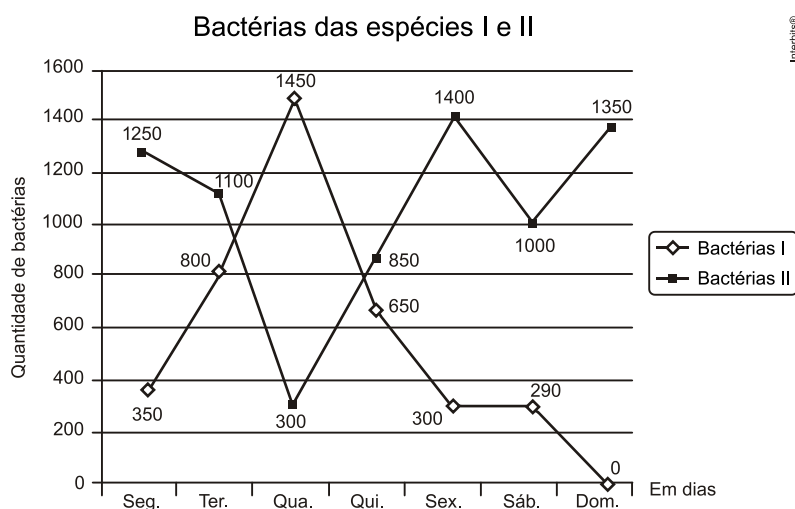
Gráfico 2

Intertops®

Qual deve ser o aumento na receita da empresa para que o lucro mensal em 2014 seja o mesmo de 2013?

- a) R\$114.285,00
- b) R\$130.000,00
- c) R\$160.000,00
- d) R\$210.000,00
- e) R\$213.333,00

2. (Enem) Um cientista trabalha com as espécies I e II de bactérias em um ambiente de cultura. Inicialmente, existem 350 bactérias da espécie I e 1.250 bactérias da espécie II. O gráfico representa as quantidades de bactérias de cada espécie, em função do dia, durante uma semana.



Em que dia dessa semana a quantidade total de bactérias nesse ambiente de cultura foi máxima?

- a) Terça-feira.
- b) Quarta-feira.
- c) Quinta-feira.
- d) Sexta-feira.
- e) Domingo.

3. (Enem) A taxa de fecundidade é um indicador que expressa a condição, reprodutiva média das mulheres de uma região, e é importante para uma análise da dinâmica demográfica dessa região. A tabela apresenta os dados obtidos pelos Censos de 2000 e 2010, feitos pelo IBGE, com relação à taxa de fecundidade no Brasil.

Ano	Taxa de fecundidade no Brasil
2000	2,38
2010	1,90

*Disponível em:*  
*[www.saladeimprensa.ibge.gov.br](http://www.saladeimprensa.ibge.gov.br). Acesso*  
*em: 31 jul. 2013.*

Suponha que a variação percentual relativa na taxa de fecundidade no período de 2000 a 2010 se repita no período de 2010 a 2020.

Nesse caso, em 2020 a taxa de fecundidade no Brasil estará mais próxima de

- a) 1,14.
- b) 1,42.
- c) 1,52.
- d) 1,70.
- e) 1,80.

4. (Enem) Uma falsa relação

O cruzamento da quantidade de horas estudadas com o desempenho no Programa Internacional de Avaliação de Estudantes (Pisa) mostra que mais tempo na escola não é garantia de nota acima da média.



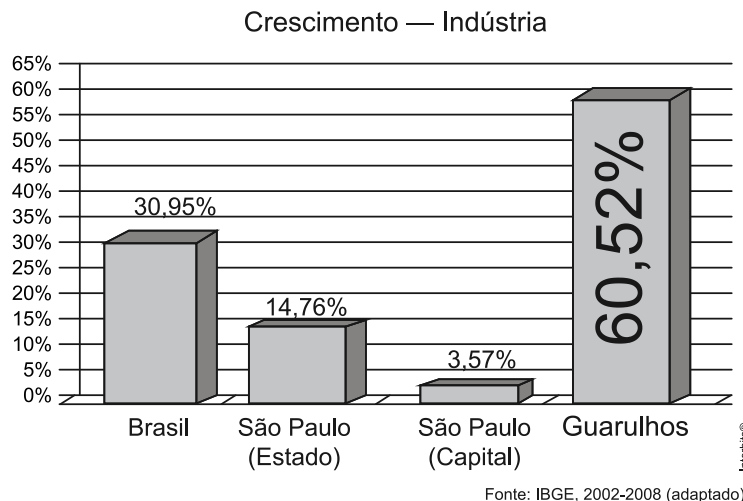
\*Considerando as médias de cada país no exame de matemática.

Nova Escola, São Paulo, dez. 2010 (adaptado).

Dos países com notas abaixo da média nesse exame, aquele que apresenta maior quantidade de horas de estudo é

- a) Finlândia.
- b) Holanda.
- c) Israel.
- d) México.
- e) Rússia.

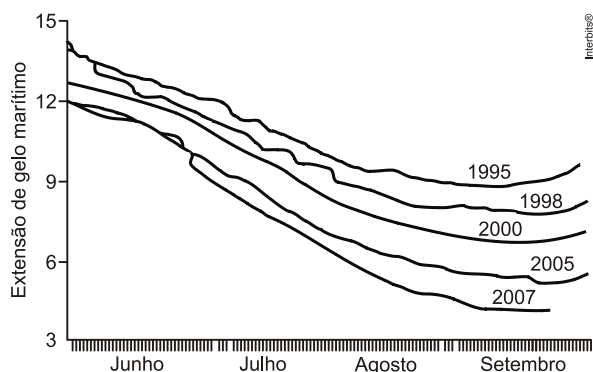
5. (Enem) A cidade de Guarulhos (SP) tem o 8º PIB municipal do Brasil, além do maior aeroporto da América do Sul. Em proporção, possui a economia que mais cresce em indústrias, conforme mostra o gráfico.



Analisando os dados percentuais do gráfico, qual a diferença entre o maior e o menor centro em crescimento no polo das indústrias?

- a) 75,28
- b) 64,09
- c) 56,95
- d) 45,76
- e) 30,07

6. (Enem) O gráfico mostra a variação da extensão média de gelo marítimo, em milhões de quilômetros quadrados, comparando dados dos anos 1995, 1998, 2000, 2005 e 2007. Os dados correspondem aos meses de junho a setembro. O Ártico começa a recobrir o gelo quando termina o verão, em meados de setembro. O gelo do mar atua como o sistema de resfriamento da Terra, refletindo quase toda a luz solar de volta ao espaço. Águas de oceanos escuros, por sua vez, absorvem a luz solar e reforçam o aquecimento do Ártico, ocasionando derretimento crescente do gelo.

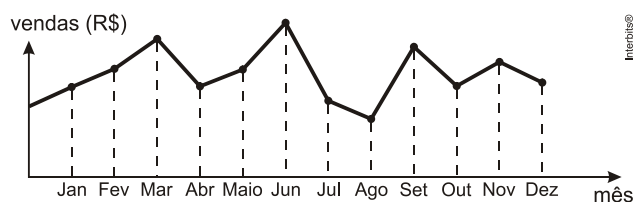


Disponível em: <http://sustentabilidade.allianz.com.br>.  
Acesso em: fev. 2012 (adaptado)

Com base no gráfico e nas informações do texto, é possível inferir que houve maior aquecimento global em

- a) 1995.
- b) 1998.
- c) 2000.
- d) 2005.
- e) 2007.

7. (Enem) O dono de uma farmácia resolveu colocar à vista do público o gráfico mostrado a seguir, que apresenta a evolução do total de vendas (em Reais) de certo medicamento ao longo do ano de 2011.



De acordo com o gráfico, os meses em que ocorreram, respectivamente, a maior e a menor venda absolutas em 2011 foram

- a) março e abril.
- b) março e agosto.
- c) agosto e setembro.
- d) junho e setembro.
- e) junho e agosto.

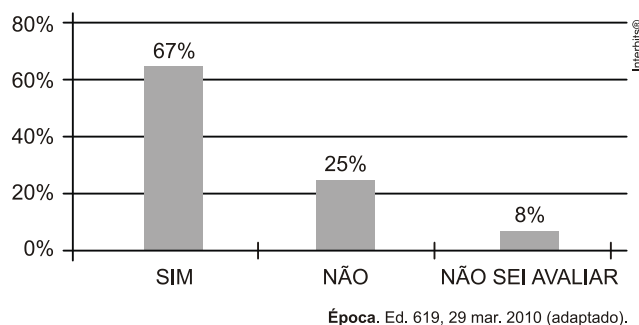
8. (Enem) Uma pesquisa realizada por estudantes da Faculdade de Estatística mostra, em horas por dia, como os jovens entre 12 e 18 anos gastam seu tempo, tanto durante a semana (de segunda-feira a sexta-feira), como no fim de semana (sábado e domingo). A seguinte tabela ilustra os resultados da pesquisa.

Rotina Juvenil	Durante a semana	No fim de semana
Assistir à televisão	3	3
Atividades domésticas	1	1
Atividades escolares	5	1
Atividades de lazer	2	4
Descanso, higiene e alimentação	10	12
Outras atividades	3	3

De acordo com esta pesquisa, quantas horas de seu tempo gasta um jovem entre 12 e 18 anos, na semana inteira (de segunda-feira a domingo), nas atividades escolares?

- a) 20
- b) 21
- c) 24
- d) 25
- e) 27

9. (Enem) Uma enquete, realizada em março de 2010, perguntava aos internautas se eles acreditavam que as atividades humanas provocam o aquecimento global. Eram três alternativas possíveis e 279 internautas responderam à enquete, como mostra o gráfico.



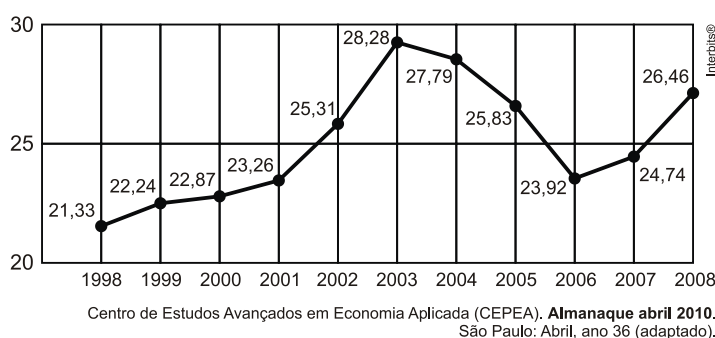


Analisando os dados do gráfico, quantos internautas responderam “Não” à enquete?

- a) Menos de 23.
- b) Mais de 23 e menos de 25.
- c) Mais de 50 e menos de 75.
- d) Mais de 100 e menos de 190.
- e) Mais de 200.

10. (Enem) O termo agronegócio não se refere apenas à agricultura e à pecuária, pois as atividades ligadas a essa produção incluem fornecedores de equipamentos, serviços para a zona rural, industrialização e comercialização dos produtos.

O gráfico seguinte mostra a participação percentual do agronegócio no PIB brasileiro:



Esse gráfico foi usado em uma palestra na qual o orador ressaltou uma queda da participação do agronegócio no PIB brasileiro e a posterior recuperação dessa participação, em termos percentuais.

Segundo o gráfico, o período de queda ocorreu entre os anos de

- a) 1998 e 2001.
- b) 2001 e 2003.
- c) 2003 e 2006.
- d) 2003 e 2007.
- e) 2003 e 2008.

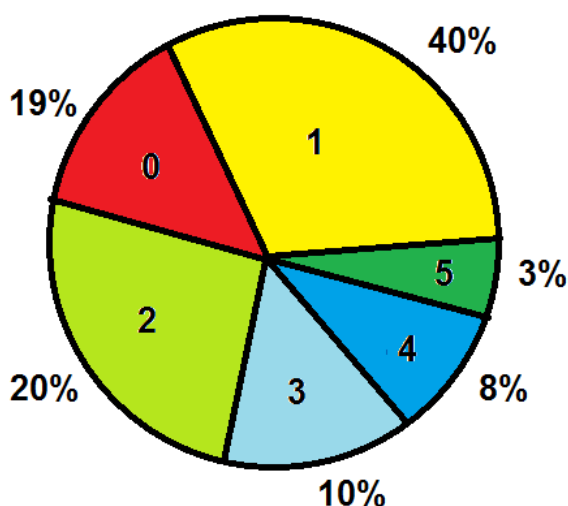
**Vem que tem mais!**

Os pesquisadores, estudiosos, cientistas demonstram relatórios que incentivam o controle de natalidade.

No entanto esse controle é direcionado aos países do sul (subdesenvolvidos) e não aos países do norte (desenvolvidos), eles recomendam, mas não praticam, pelo contrário, nesses países ocorrem incentivos para que as famílias tenham mais filhos.

Essa polêmica tem explicação, é que a densidade demográfica dos países do norte está quase que decrescendo diferentemente dos países do sul que possuem altos índices de crescimento natural/vegetativo.

Considere que numa determinada região tenha-se um controle de natalidade onde é aconselhado que cada mulher tenha em média 2 filhos no máximo. Uma pesquisa foi realizada nessa região com 2000 mulheres e está mostrado no gráfico abaixo onde temos a porcentagem da quantidade de filhos dessas mulheres:



Analisando essa situação, podemos dizer que essa região está dentro do controle estipulado pelo governo?

---

## ***Gabarito***

- 1. B**
- 2. A**
- 3. C**
- 4. C**
- 5. C**
- 6. E**
- 7. E**
- 8. E**
- 9. C**
- 10. C**