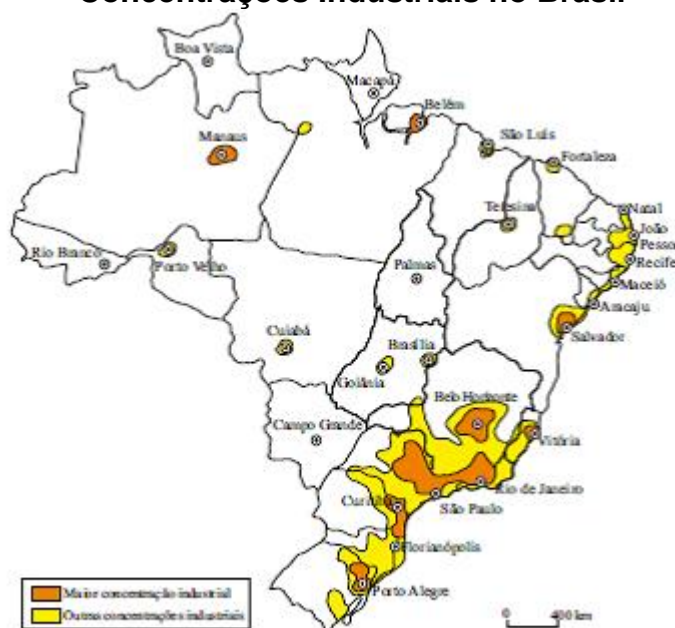


Centro-Sul Brasileiro

1. Analise o mapa, que representa as concentrações industriais no Brasil.

Concentrações Industriais no Brasil



(IBGE, 1992. Adaptado.)

A partir da análise do mapa e de seus conhecimentos, assinale a alternativa correta.

- a) As economias de aglomeração, no sul do país, impulsionaram o crescimento das pequenas cidades.
- b) As fábricas instalaram-se em regiões de baixa densidade demográfica.
- c) Os centros industriais pioneiros provocaram o declínio financeiro das grandes cidades administrativas do sudeste.
- d) Os processos de industrialização do Brasil promoveram a concentração espacial da riqueza.
- e) As concentrações industriais no Brasil acompanharam as linhas de fronteiras agrícolas.

3. O Atlas Brasil 2013, divulgado recentemente pelo Programa das Nações Unidas para o Desenvolvimento (PNUD), apresenta o Índice de Desenvolvimento Humano (IDH) e publica dados referentes às condições de vida dos brasileiros nos últimos 20 anos, considerando longevidade, educação e renda.

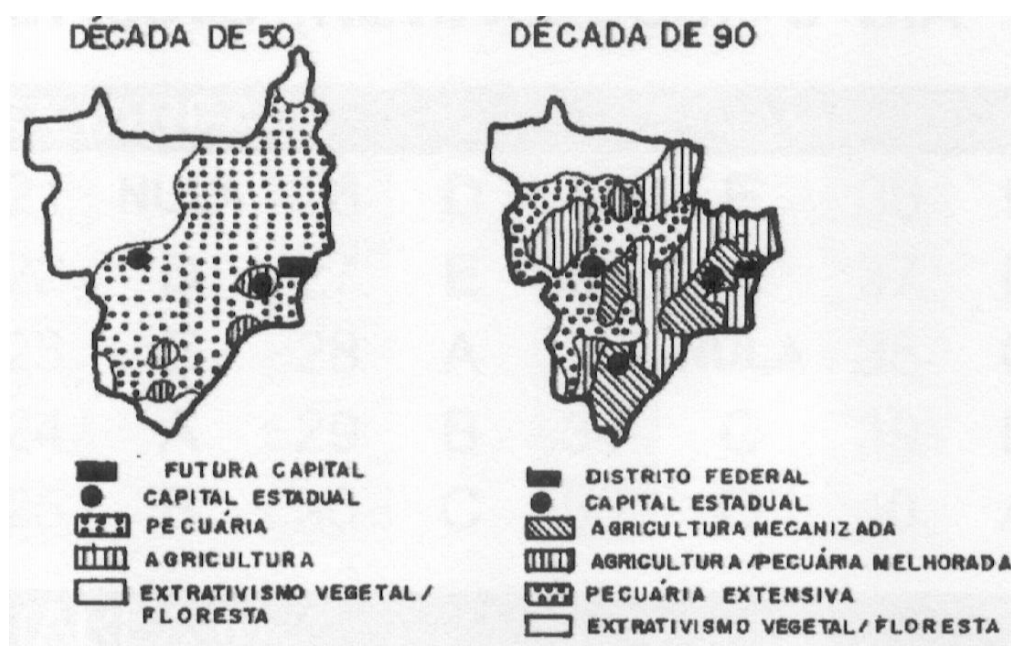
O IDH é expresso por um número, que varia entre 0 e 1 e compreende as seguintes faixas:

0 – 0,499	Muito Baixo
0,500 – 0,599	Baixo
0,600 – 0,699	Médio
0,700 – 0,799	Alto
0,800 – 1	Muito Alto

Sobre os dados publicados, é correto afirmar:

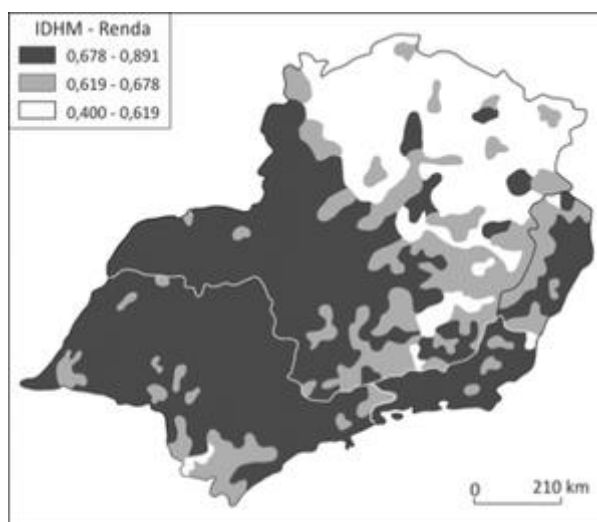
- A maioria dos municípios das regiões Sul, Sudeste e Norte é classificada com o índice —Alto e —Muito Alto Desenvolvimento Humano, demonstrando redução da desigualdade.
- A maior concentração de municípios com índice —Muito Alto Desenvolvimento Humano está nas regiões Sudeste e Sul e na capital federal.
- Os municípios da região Nordeste apresentaram o maior crescimento do IDH referente à longevidade da sua população, colocando-se no mesmo nível da região Sul nesse quesito.
- A renda *per capita* do brasileiro cresceu 14,2% no período, elevando para a categoria de —Alto Desenvolvimento Humano 90% dos municípios brasileiros.
- O indicador educação é o que menos contribui para o IDH nacional, embora apresente um crescimento contínuo, impulsionado pelo avanço da escolaridade da população adulta e pelo aumento de ingresso e de permanência de jovens no ensino médio.

3. Os cartogramas abaixo expressam o espaço geográfico da Região Centro-Oeste em momentos históricos distintos. Analise-os levando em consideração o seu papel no contexto econômico do país e marque a alternativa correta



- a) Até a década de 50 o Centro-Oeste desempenhava um pequeno papel no contexto econômico do país. Suas atividades se colocavam à margem do processo urbano industrial que ocorria no Centro-Sul.
- b) A transferência da capital do país para o planalto central, a abertura de estradas e os incentivos governamentais, à expansão das atividades agropecuárias deram um impulso muito grande à hegmonia nacional da região.
- c) A partir da década de 70, o Centro-Oeste passou a receber investimentos de maior vulto transformando-se numa grande região produtora de gado de corte e indústria leiteira
- d) Todas as transformações que ocorreram no espaço agropecuário do Centro-Oeste nas décadas de 50 a 90, não contribuíram para que a região se integrasse aos mercados produtores e consumidores do Sudeste.
- e) A integração dos transportes rodofluviais e as redes de comunicação não foram significativas para a região Centro-Oeste ampliar seus horizontes econômicos.

4. Considere o mapa do IDHM - Renda (Índice de Desenvolvimento Humano Municipal - Renda) da região Sudeste.

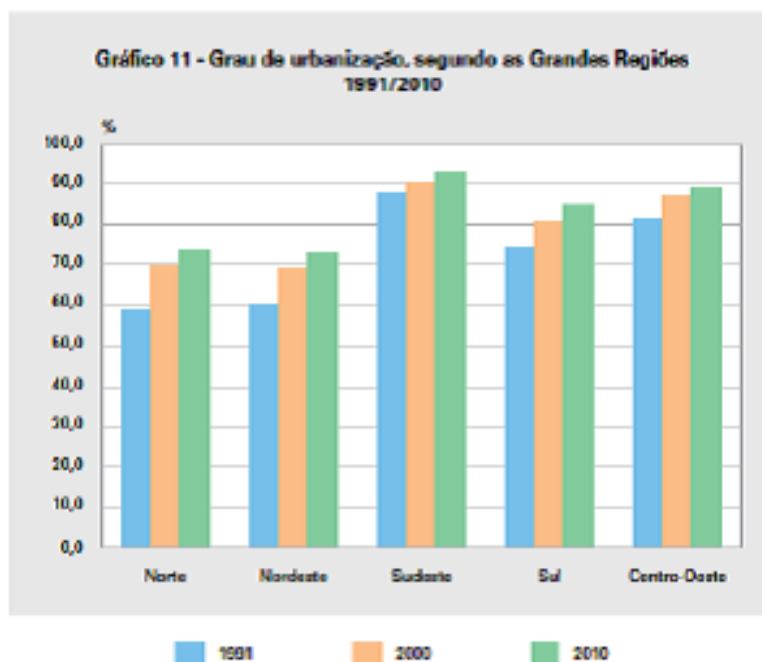


PNUD, IPEA e FJP, Atlas do desenvolvimento humano no Brasil, 2013. Adaptado.

A leitura do mapa permite identificar que o IDHM - Renda, no Sudeste, e, predominantemente,

- a) alto no Vale do Paraíba do Sul e no Vale do Jequitinhonha.
- b) médio no Polígono das Secas e no Vale do Aço mineiro.
- c) baixo no Pontal do Paranapanema e no norte do Espírito Santo.
- d) baixo no Polígono das Secas e no Vale do Jequitinhonha.
- e) médio na área petrolífera da Bacia de Campos e no Triângulo Mineiro.

5. Observe o gráfico:



Fonte: IBGE, Censo Demográfico 1991/2010.

http://www.ibge.gov.br/home/estatistica/populacao/censo2010/sinopse/sinopse_tab_bras

Sobre os fatores relacionados ao processo de urbanização nas regiões brasileiras, assinale a alternativa correta:

- a) A urbanização é mais lenta nas regiões onde predomina a agricultura de alta intensidade técnica.
- b) Na Região Norte, o processo de urbanização é a principal causa do desmatamento.
- c) Na Região Centro-Oeste, a urbanização é alimentada pelo êxodo rural resultante da crise do setor agrícola.
- d) No Sudeste, o elevado grau de urbanização é um reflexo da baixa produtividade do setor agrícola.
- e) No Sul, a urbanização foi impulsionada pela concentração da propriedade fundiária e pela modernização técnica da agricultura.

Gabarito

1. D
2. B
3. A
4. D
5. E