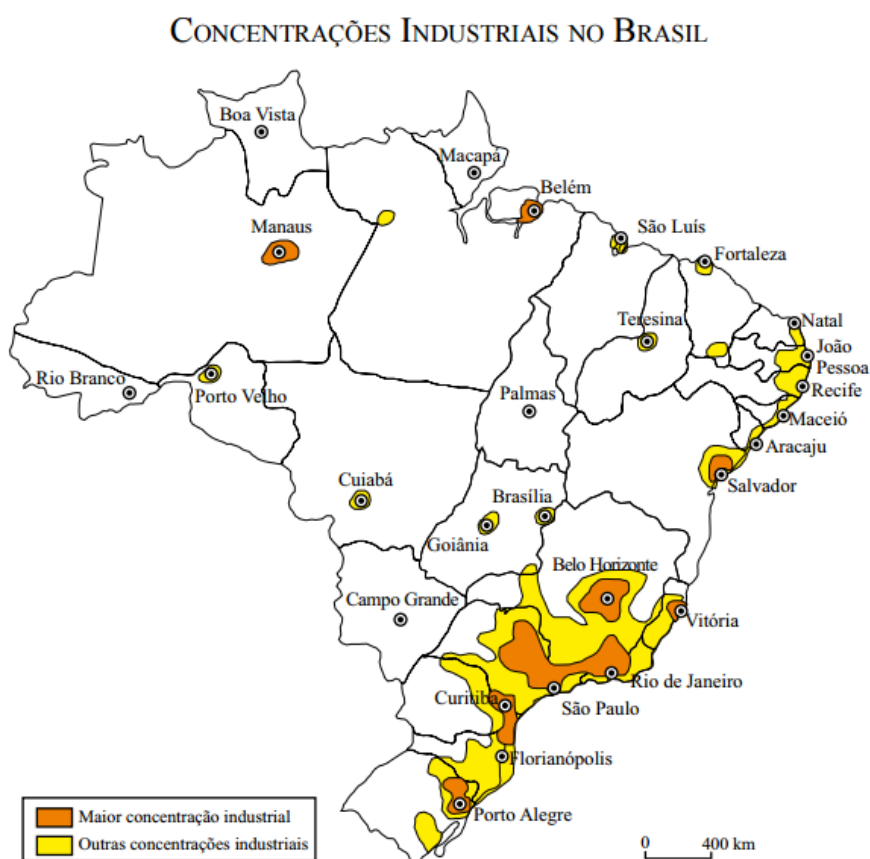


Centro-Sul Brasileiro



Centro-Sul Brasileiro

1. Analise o mapa, que representa as concentrações industriais no Brasil.

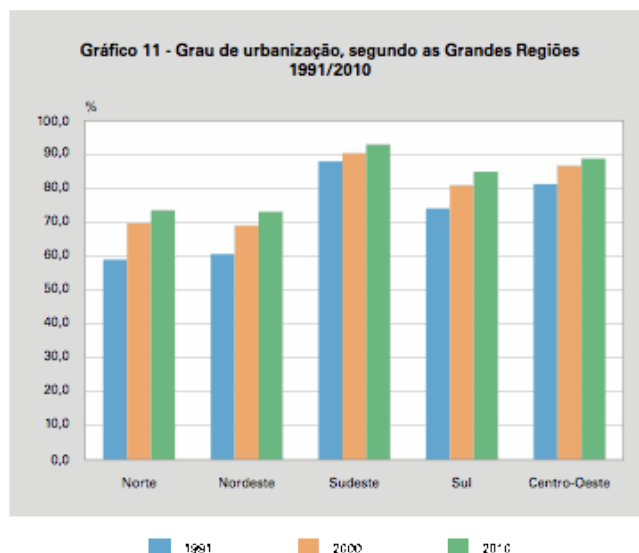


IBGE, 1992, Adaptado.

A partir da análise do mapa e de seus conhecimentos, assinale a alternativa correta.

- a) As economias de aglomeração, no sul do país, impulsionaram o crescimento das pequenas cidades.
- b) As fábricas instalaram-se em regiões de baixa densidade demográfica.
- c) Os centros industriais pioneiros provocaram o declínio financeiro das grandes cidades administrativas do Sudeste.
- d) Os processos de industrialização do Brasil promoveram a concentração espacial da riqueza.
- e) As concentrações industriais no Brasil acompanharam as linhas de fronteiras agrícolas

2. Observe o gráfico:



Sobre os fatores relacionados ao processo de urbanização nas regiões brasileiras, assinale a alternativa correta:

- a) A urbanização é mais lenta nas regiões onde predomina a agricultura de alta intensidade técnica.
- b) Na Região Norte, o processo de urbanização é a principal causa do desmatamento.
- c) Na Região Centro-Oeste, a urbanização é alimentada pelo êxodo rural resultante da crise do setor agrícola.
- d) No Sudeste, o elevado grau de urbanização é um reflexo da baixa produtividade do setor agrícola.
- e) No Sul, a urbanização foi impulsionada pela concentração da propriedade fundiária e pela modernização técnica da agricultura.

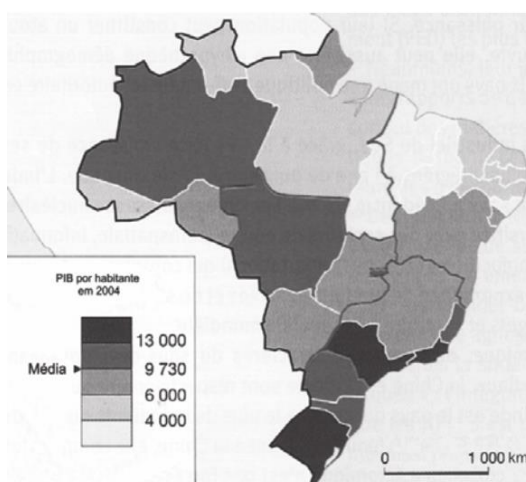
3. O Centro-Oeste apresentou-se como extremamente receptivo aos novos fenômenos da urbanização, já que era praticamente virgem, não possuindo infraestrutura de monta, nem outros investimentos fixos vindos do passado. Pôde, assim, receber uma infraestrutura nova, totalmente a serviço de uma economia moderna.

SANTOS, M. A Urbanização Brasileira. São Paulo: EdUSP, 2005 (adaptado).

O texto trata da ocupação de uma parcela do território brasileiro. O processo econômico diretamente associado a essa ocupação foi o avanço da:

- a) industrialização voltada para o setor de base.
- b) economia da borracha no sul da Amazônia.
- c) fronteira agropecuária que degradou parte do cerrado.
- d) exploração mineral na Chapada dos Guimarães.
- e) extrativismo na região pantaneira.

4.



CIATTONI, A. *Géographie. L'espace Mondial*. Paris: Hachette, 2008 (Adaptado).

A partir do mapa apresentado, é possível inferir que nas últimas décadas do século XX, registraram-se processos que resultaram em transformações na distribuição das atividades econômicas e da população sobre o território brasileiro, com reflexos no PIB por habitante. Assim,

- a) as desigualdades econômicas existentes entre regiões brasileiras desapareceram, tendo em vista a modernização tecnológica e o crescimento vivido pelo país.
- b) os novos fluxos migratórios instaurados em direção ao Norte e ao Centro-Oeste do país prejudicaram o desenvolvimento socioeconômico dessas regiões, incapazes de atender ao crescimento da demanda por postos de trabalho.
- c) o Sudeste brasileiro deixou de ser a região com o maior PIB industrial a partir do processo de desconcentração espacial do setor, em direção a outras regiões do país.
- d) o avanço da fronteira econômica sobre os estados da região Norte e do Centro-Oeste resultou no desenvolvimento e na introdução de novas atividades econômicas, tanto nos setores primário e secundário, como no terciário.
- e) o Nordeste tem vivido, ao contrário do restante do país, um período de retração econômica, como consequência da falta de investimentos no setor industrial com base na moderna tecnologia.

5. O Brasil está dividido em três regiões geoeconômicas que refletem as diferentes formas de ocupação humana ao longo do tempo histórico: Nordeste, Centro-Sul e Amazônica. Analise os aspectos que caracterizam essas regiões:

- I. O Nordeste é a principal área de refluxo (saída) de pessoas nas migrações internas do país.
- II. A região Centro-Sul é a mais industrializada, povoada e urbanizada do país.
- III. A Amazônia é a região menos povoada do Brasil e sofre grandes impactos ambientais.
- IV. A região nordestina apresenta muitas marcas da colonização e, por praticamente três séculos, foi a região mais rica do Brasil.

Está correto o contido em

- a) I e II, apenas.
- b) I, II e III, apenas.
- c) I, II e IV, apenas.
- d) I, III e IV, apenas.
- e) I, II, III e IV.

Gabarito

1. D
2. E
3. C
4. D
5. E